

- Cada um dos itens da prova objetiva está vinculado ao comando que imediatamente o antecede. De acordo com o comando a que cada um deles esteja vinculado, marque, na **Folha de Respostas**, para cada item: o campo designado com o código **C**, caso julgue o item **CERTO**; ou o campo designado com o código **E**, caso julgue o item **ERRADO**. A ausência de marcação ou a marcação de ambos os campos não serão apenadas, ou seja, não receberão pontuação negativa. Para as devidas marcações, use a **Folha de Respostas**, único documento válido para a correção da sua prova objetiva.
- No(s) item(ns) constituído(s) pela estrutura **Situação hipotética**: ... seguida de **Assertiva**: ..., os dados apresentados como situação hipotética deverão ser considerados premissa(s) para o julgamento da assertiva proposta.
- Eventuais espaços livres — identificados ou não pela expressão “Espaço livre” — que constarem deste caderno de provas poderão ser utilizados para anotações, rascunhos etc.

PROVA OBJETIVA

BLOCO I

1 A vida humana só viceja sob algum tipo de luz, de preferência a do sol, tão óbvia quanto essencial. Somos animais diurnos, por mais que boêmios da pá virada e vampiros em geral discordem dessa afirmativa. Poucas vezes a gente pensa nisso, do mesmo jeito que devem ser poucas as pessoas que acordam se sentindo primatas, mamíferos ou terráqueos, outros rótulos que nos cabem por força da natureza das coisas.

10 A humanidade continua se aperfeiçoando na arte de afastar as trevas noturnas de todo hábitat humano. Luz soa para muitos como sinônimo de civilização, e pode-se observar do espaço o mapa das desigualdades econômicas mundiais desenhado na banda noturna do planeta. A parcela ocidental do hemisfério norte é, de longe, a mais iluminada.

16 Dispor de tanta luz assim, porém, tem um custo ambiental muito alto, avisam os cientistas. Nos humanos, o excesso de luz urbana que se infiltra no ambiente no qual dormimos pode reduzir drasticamente os níveis de melatonina, que regula o nosso ciclo de sono-vigília.

22 Mesmo assim, sinto uma alegria quase infantil quando vejo se acenderem as luzes da cidade. E repito para mim mesmo a pergunta que me faço desde que me conheço por gente: quem é o responsável por acender as luzes da cidade? O mais plausível é imaginar que essa tarefa caiba a sensores fotoelétricos espalhados pelos bairros. Mas e antes dos sensores, como é que se fazia? Imagino que algum funcionário trepava na antena mais alta no topo do maior arranha-céu e, ao constatar a falência da luz solar, acionava um interruptor, e a cidade toda se iluminava.

34 Não consigo pensar em um cargo público mais empolgante que o desse homem. Claro que o cargo, se existia, já foi extinto, e o homem da luz já deve ter se transferido para o mundo das trevas eternas.

Reinaldo Moraes. “Luz! Mais luz”. Internet: <www.nexojornal.com.br> (com adaptações).

No que se refere aos sentidos e às construções linguísticas do texto precedente, julgue os itens a seguir.

- 1 A forma verbal “viceja” (ℓ.1) poderia ser substituída por **germina**, sem prejuízo da coerência e da correção gramatical do trecho.
- 2 Infere-se do primeiro parágrafo do texto que “boêmios da pá virada e vampiros” diferem biologicamente dos seres humanos em geral, os quais tendem a desempenhar a maior parte de suas atividades durante a manhã e a tarde.
- 3 A correção gramatical do texto seria mantida caso o pronome “se”, em “se sentindo” (ℓ.6), fosse deslocado para imediatamente após a forma verbal “sentindo”, da seguinte maneira: **sentindo-se**.

- 4 A correção gramatical e os sentidos do texto seriam mantidos caso se suprimisse o trecho “é que”, em “como é que se fazia” (ℓ.27).
- 5 Sem prejuízo da correção gramatical e dos sentidos do texto, o primeiro período do terceiro parágrafo poderia ser assim reescrito: Contudo, os cientistas avisam que ter tanta luz à nosso dispor custa muito caro ao meio ambiente.
- 6 A correção gramatical do texto seria mantida, mas seu sentido seria alterado, caso o trecho “que se infiltra no ambiente no qual dormimos” (ℓ. 18 e 19) fosse isolado por vírgulas.
- 7 A correção gramatical e os sentidos do texto seriam mantidos caso a forma verbal “existia” (ℓ.34) fosse substituída por **existisse**.
- 8 A substituição da locução “a cidade toda” (ℓ.30) por **toda cidade** preservaria os sentidos e a correção gramatical do período.
- 9 É correto inferir do trecho “o homem da luz já deve ter se transferido para o mundo das trevas eternas” (ℓ. 34 e 35) que provavelmente o funcionário responsável pelo acionamento da iluminação urbana já morreu.

1 As atividades pertinentes ao trabalho relacionam-se intrinsecamente com a satisfação das necessidades dos seres humanos — alimentar-se, proteger-se do frio e do calor, ter o que calçar etc. Estas colocam os homens em uma relação de dependência com a natureza, pois no mundo natural estão os elementos que serão utilizados para atendê-las.

7 Se prestarmos atenção à nossa volta, perceberemos que quase tudo que vemos existe em razão de atividades do trabalho humano. Os processos de produção dos objetos que nos cercam movimentam relações diversas entre os indivíduos, assim como a organização do trabalho alterou-se bastante entre diferentes sociedades e momentos da história.

16 De acordo com o cientista social norte-americano Marshall Sahlins, nas sociedades tribais, o trabalho geralmente não tem a mesma concepção que vigora nas sociedades industrializadas. Naquelas, o trabalho está integrado a outras dimensões da sociabilidade — festas, ritos, artes, mitos etc. —, não representando, assim, um mundo à parte.

22 Nas sociedades tribais, o trabalho está em tudo, e praticamente todos trabalham. Sahlins propôs que tais sociedades fossem conhecidas como “sociedades de abundância” ou “sociedades do lazer”, pelo fato de que nelas a satisfação das necessidades básicas sociais e materiais se dá plenamente.

Thiago de Mello. **Trabalho**. Internet: <educacao.globo.com> (com adaptações).

Julgue os seguintes itens, a respeito das ideias e das construções linguísticas do texto apresentado.

- 10 As formas pronominais “Estas” (ℓ.4) e “las” (ℓ.7) referem-se a “necessidades dos seres humanos” (ℓ. 2 e 3).
- 11 Seriam mantidos os sentidos do texto caso o primeiro período do segundo parágrafo fosse assim reescrito: Quando prestamos atenção a nossa volta, percebemos que quase tudo que vemos existe pelas atividades do trabalho humano.
- 12 A locução “em razão de” (ℓ.9) expressa uma ideia de causa.
- 13 Com o emprego da expressão “assim como” (ℓ.12), estabelece-se uma relação de comparação entre ideias expressas no período.
- 14 Conclui-se do texto que, devido à abundância de recursos, nas sociedades tribais os indivíduos não têm necessidade de separar as práticas laborais das outras atividades sociais.
- 15 Caso o advérbio “praticamente” (ℓ.23) fosse isolado por vírgulas, a correção gramatical do trecho seria alterada.
- 16 No trecho “Os processos de produção dos objetos que nos cercam movimentam relações diversas entre os indivíduos” (ℓ. 10 a 12), o sujeito da forma verbal “cercam” é “Os processos de produção dos objetos”.

Uma unidade da PRF interceptou, durante vários meses, lotes de mercadorias vendidas por uma empresa com a emissão de notas fiscais falsas. A sequência dos números das notas fiscais apreendidas, ordenados pela data de interceptação, é a seguinte: 25, 75, 50, 150, 100, 300, 200, 600, 400, 1.200, 800,

Tendo como referência essa situação hipotética, julgue os itens seguintes, considerando que a sequência dos números das notas fiscais apreendidas segue o padrão apresentado.

- 21 O padrão apresentado pela referida sequência indica que os números podem corresponder, na ordem em que aparecem, a ordenadas de pontos do gráfico de uma função afim de inclinação positiva.
- 22 A partir do padrão da sequência, infere-se que o 12.º termo é o número 1.600.
- 23 Se a_n for o n -ésimo termo da sequência, em que $n = 1, 2, 3, \dots$, então, para $n \geq 3$, tem-se que $a_n = 2 \times a_{n-2}$.

Espaço livre

¹ O nome é o nosso rosto na multidão de palavras. Delineia os traços da imagem que fazem de nós, embora não do que somos (no íntimo). Alguns escondem seus donos, outros lhes põem nos olhos um azul que não possuem. Raramente coincidem, nome e pessoa. Também há rostos quase idênticos, e os nomes de quem os leva ⁴ (pela vida afora) são completamente díspares, nenhuma ⁷ letra se igualando a outra.

O do autor deste texto é um nome simples, ¹⁰ apostólico, advindo do avô. No entanto, o sobrenome, pelo qual passou a ser reconhecido, é incomum. Sonoro, hispânico. Com uma combinação incomum de nome e ¹³ sobrenome, difícil seria encontrar um homônimo. Mas eis que um surgiu, quando ele andava pelos vinte anos. E continua, ao seu lado, até agora — sombra amiga.

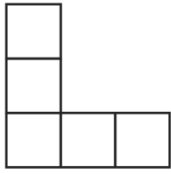
¹⁶ Impossível não existir aqui ou ali alguma confusão entre eles, um episódio obscuro que, logo, viria às claras com a real justificativa: esse não sou eu. Houve o caso da ¹⁹ mulher que telefonou para ele, esmagando-o com impropérios por uma crítica feita no jornal pelo outro, sobre um célebre arquiteto, de quem ela era secretária.

João Anzanello Carrascoza. **Homônimo**. In: **Diário das Coincidências**. Ed. digital. São Paulo: Objetiva, p. 52 (com adaptações).

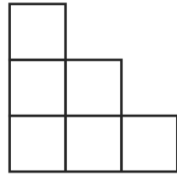
No que concerne ao texto precedente, julgue os próximos itens.

- 17 A afirmação de que alguns nomes põem nos olhos de seus donos “um azul que não possuem” (ℓ. 4 e 5) contradiz a ideia de que os nomes definem não as qualidades reais de cada um, mas o modo como os outros o veem.
- 18 A informação apresentada pela oração “nenhuma letra se igualando a outra” (ℓ. 7 e 8) é redundante em relação à informação apresentada na oração imediatamente anterior, servindo para reforçar-lhe o sentido.
- 19 O vocábulo “um” (ℓ.14) refere-se a um indivíduo cujo nome é idêntico ao do autor do texto.
- 20 Infere-se que o autor do texto é espanhol.

As figuras seguintes ilustram a vista frontal e a vista da esquerda de um sólido que foi formado empilhando-se cubos de mesmo tamanho.



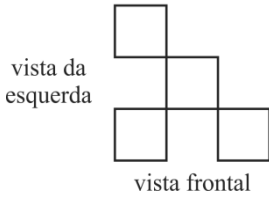
vista frontal



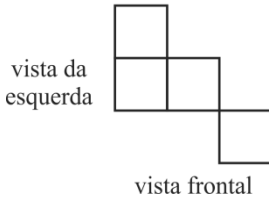
vista da esquerda

A partir das figuras precedentes, julgue os itens a seguir, com relação à possibilidade de a figura representar uma vista superior do referido sólido.

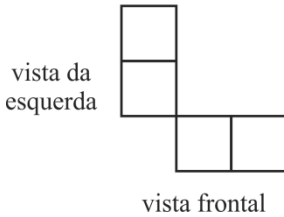
24



25



26



Para avaliar a resposta dos motoristas a uma campanha educativa promovida pela PRF, foi proposta a função $f(x) = 350 + 150e^{-x}$, que modela a quantidade de acidentes de trânsito com vítimas fatais ocorridos em cada ano. Nessa função, $x \geq 0$ indica o número de anos decorridos após o início da campanha.

Com referência a essa situação hipotética, julgue os itens que se seguem.

- 27 Segundo o modelo apresentado, após dez anos de campanha educativa, haverá, em cada um dos anos seguintes, menos de 300 acidentes de trânsito com vítimas fatais.
- 28 De acordo com o modelo, no final do primeiro ano da campanha, apesar do decréscimo com relação ao ano anterior, ainda ocorreram mais de 400 acidentes de trânsito com vítimas fatais.

Julgue os itens subsequentes, a respeito de conceitos e modos de utilização de tecnologias, ferramentas, aplicativos e procedimentos associados à Internet.

- 29 As versões mais modernas dos navegadores Chrome, Firefox e Edge reconhecem e suportam, em instalação padrão, os protocolos de Internet FTP, SMTP e NNTP, os quais implementam, respectivamente, aplicações de transferência de arquivos, correio eletrônico e compartilhamento de notícias.
- 30 Por meio de uma aplicação de acesso remoto, um computador é capaz de acessar e controlar outro computador, independentemente da distância física entre eles, desde que ambos os computadores estejam conectados à Internet.

Com relação a redes de computadores, julgue o item a seguir.

- 31 No fluxo de pacotes em uma rede de computadores, a qualidade de serviço é determinada pelos parâmetros relacionados a propagação, recuperação, interferência e perda de dados.

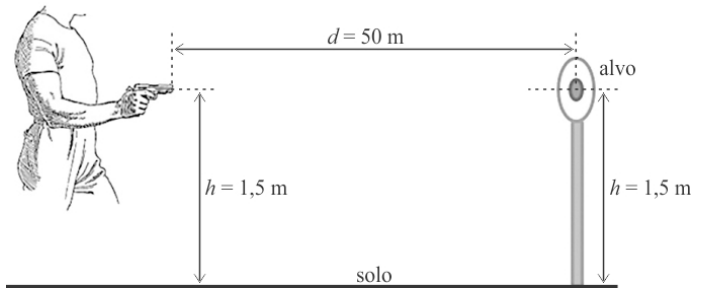
Acerca de proteção e segurança da informação, julgue os seguintes itens.

- 32 No acesso a uma página *web* que contenha o código de um vírus de *script*, pode ocorrer a execução automática desse vírus, conforme as configurações do navegador.
- 33 Programas *anti-spyware* usam basicamente mecanismos de análise comportamental, análise heurística e inteligência artificial para detectar *software* de *spyware* instalado indevidamente em um sistema.

A respeito de computação em nuvem, julgue o próximo item.

- 34 A computação em nuvem do tipo *software as a service* (SaaS) possibilita que o usuário acesse aplicativos e serviços de qualquer local usando um computador conectado à Internet.

A figura seguinte ilustra uma prova de tiro ao alvo com arma de fogo: o alvo é um círculo de 20 cm de diâmetro e está localizado a 50 m da extremidade do cano da arma. O cano da arma e o centro do alvo estão à altura de 1,5 m do solo.



Nessa situação, um projétil de massa igual a 15 g sai do cano da arma paralelamente ao solo, com velocidade horizontal inicial de 720 km/h.

Tendo como referência a situação apresentada, julgue os itens a seguir, considerando que a aceleração da gravidade seja de $9,8 \text{ m/s}^2$ e desprezando o atrito do ar sobre o projétil.

- 35 O deslocamento do projétil na direção horizontal ocorre de acordo com uma função quadrática do tempo.
- 36 Na situação em tela, o projétil atingirá o alvo circular.
- 37 Se o alvo fosse retirado da direção do projétil, então o trabalho realizado pela força gravitacional para levar o projétil até o solo seria superior a 0,10 J.

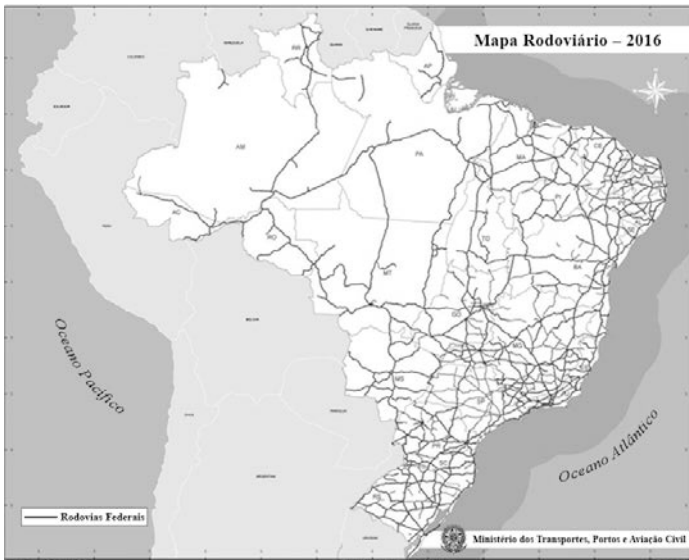
Um veículo de 1.000 kg de massa, que se desloca sobre uma pista plana, faz uma curva circular de 50 m de raio, com velocidade de 54 km/h. O coeficiente de atrito estático entre os pneus do veículo e a pista é igual a 0,60.

A partir dessa situação, julgue os itens que se seguem, considerando a aceleração da gravidade local igual a $9,8 \text{ m/s}^2$.

- 38 O veículo está sujeito a uma aceleração centrípeta superior à aceleração gravitacional.
- 39 Se o veículo estivesse sujeito a uma aceleração centrípeta de $4,8 \text{ m/s}^2$, então ele faria a curva em segurança, sem derrapar.
- 40 Considere que esse veículo colida com outro veículo, mas o sistema permaneça isolado, ou seja, não haja troca de matéria com o meio externo nem existam forças externas agindo sobre ele. Nesse caso, segundo a lei de conservação da quantidade de movimento, a soma das quantidades de movimento dos dois veículos, antes e após a colisão, permanece constante.

A respeito de ética no serviço público, julgue os itens a seguir.

- 41 Na administração pública, moralidade restringe-se à distinção entre o bem e o mal: o servidor público nunca poderá desprezar o elemento ético de sua conduta.
- 42 No estrito exercício de sua função, o servidor público deve nortear-se por primados maiores — como a consciência dos princípios morais, o zelo e a eficácia —; fora dessa função, porém, por estar diante de situação particular, não está obrigado a agir conforme tais primados.
- 43 Servidor público que se apresenta habitualmente embriagado no serviço ou até mesmo fora dele poderá ser submetido à Comissão de Ética, a qual poderá aplicar-lhe a pena de censura.
- 44 Servidor público que, no exercício da função pública, desviar outro servidor para atender a seu interesse particular, ou, movido pelo espírito de solidariedade, for conivente com prática como esta, poderá ser submetido à Comissão de Ética.



Mapa rodoviário 2016. Ministério dos Transportes.

O Brasil é o país com a maior concentração rodoviária de transporte de cargas e passageiros entre as principais economias mundiais. Segundo dados do Banco Mundial, referentes a 2013, 58% do transporte no país é feito por rodovias — contra 53% da Austrália, 50% da China, 43% da Rússia e 8% do Canadá.

Internet: <www.bbc.com> (com adaptações).

Considerando o texto apresentado, que destaca o papel do modal rodoviário de cargas e passageiros no Brasil, e a figura precedente, que ilustra como a rede rodoviária integra as diversas regiões que compõem o território nacional, julgue os itens a seguir.

- 45 O custo do frete e as grandes distâncias a serem percorridas entre as regiões produtoras e os centros urbanos consumidores e os portos de exportação são fatores que impactam diretamente no preço dos produtos agropecuários e industriais brasileiros e em sua competitividade nos mercados nacional e internacional.
- 46 A rede de transporte rodoviário integra todo o território brasileiro, com rodovias conectando em rede todos os municípios das cinco macrorregiões do território nacional, e a predominância desse modal de transporte é fator de vulnerabilidade em relação aos países desenvolvidos, os quais também dependem desse modal de transporte.

Como salienta Milton Santos (1994), a noção de território, na atualidade, transcende a ideia apenas geográfica de espaços contíguos vizinhos que caracterizam uma região, estendendo-se para a noção de rede, formada por pontos distantes uns dos outros, ligados por todas as formas e processos sociais; o espaço econômico, nesse sentido, é organizado hierarquicamente, como resultado da tendência à racionalização das atividades, e se faz sob um comando que tende a ser concentrado em cidades mundiais, em que a tecnologia da informação desempenha papel relevante; esse comando então passa a ser feito pelas empresas por meio de suas bases em territórios globais diversos.

Internet: <www.fgv.br> (com adaptações).

Tendo o texto precedente como referência inicial, julgue os próximos itens.

- 47 O processo de globalização econômica e desenvolvimento tecnológico é marcado pela solidariedade organizacional entre empresas, sistema financeiro, tecnologia e lugares eleitos como regiões de investimento pela economia globalizada e, com o capital globalizado, busca-se desenvolver as regiões de modo a diminuir as desigualdades regionais e a oferecer uma economia justa e solidária.
- 48 No Brasil, o setor de serviços ampliou a sua participação no PIB; o setor agropecuário, estratégico na economia brasileira, se tornou mais complexo, o que permitiu a ampliação de diversos serviços relacionados aos diferentes momentos do processo de produção/consumo, como os setores de tecnologia, transporte e finanças.

Em relação à história da PRF, julgue os itens a seguir.

- 49 Durante os grandes eventos esportivos sediados no Brasil nesta década, a PRF adotou como principal estratégia concentrar suas ações de policiamento nos locais de realização dos eventos, priorizando a segurança dos estrangeiros que ingressaram no país, especialmente de autoridades e delegações esportivas, com destaque para as atividades de escolta.
- 50 No que se refere ao trânsito, a PRF exerce atividades como fiscalização de documentos e repressão a modalidades criminosas, além de atividades educativas para adultos e crianças, por meio de projetos que visem transmitir aspectos legais, éticos e de cidadania.

Espaço livre

BLOCO II

Ao final de uma festa, Godofredo e Antônio realizaram uma disputa automobilística com seus veículos, fazendo manobras arriscadas, em via pública, sem que tivessem autorização para tanto. Nessa contenda, houve colisão dos veículos, o que causou lesão corporal culposa de natureza grave em um transeunte.

Considerando a situação hipotética apresentada e o disposto no Código de Trânsito Brasileiro, julgue os itens a seguir.

- 51 Godofredo e Antônio responderiam por crime de trânsito independentemente da lesão corporal causada, pois a conduta de ambos gerou situação de risco à incolumidade pública.
- 52 Godofredo e Antônio estão sujeitos à pena de reclusão, em razão do resultado danoso da conduta delitiva narrada.
- 53 Por se tratar de lesão corporal de natureza culposa, é vedada a instauração de inquérito policial para apurar as condutas de Godofredo e Antônio, bastando a realização dos exames médicos da vítima e o compromisso dos autores em comparecer a todos os atos necessários junto às autoridades policial e judiciária.

Em cada um dos itens que se seguem, é apresentada uma situação hipotética de crime de trânsito, seguida de uma assertiva a ser julgada, com base no disposto no Código de Trânsito Brasileiro.

- 54 Dirigindo seu veículo automotor, Luciano atropelou um transeunte, causando-lhe ferimentos leves. Luciano não prestou socorro à vítima nem solicitou auxílio da autoridade pública. Nessa situação, a conduta de Luciano será considerada atípica caso um terceiro tenha prestado apoio à vítima em seu lugar.
- 55 Felipe, ao violar a suspensão para dirigir, foi flagrado e autuado pela autoridade competente, em operação de fiscalização, conduzindo seu veículo automotor em via pública. Nessa situação, Felipe responderá por crime de trânsito e poderá receber como pena nova imposição adicional de suspensão pelo dobro do primeiro prazo, sendo vedada a substituição de pena privativa de liberdade por restritiva de direito, em razão da natureza da infração.
- 56 Lucas, motorista de ônibus, quando dirigia seu coletivo, atropelou e matou, culposamente, uma pedestre. Sávio, ao conduzir seu veículo em um passeio com a família, atropelou culposamente, na faixa de pedestre, uma pessoa, que faleceu no mesmo instante. Severino, ao dirigir seu veículo, atropelou culposamente uma transeunte que estava na calçada; ela morreu em seguida. Nessas situações, Lucas, Sávio e Severino responderão por crime de trânsito, cujas penas poderão, pelas circunstâncias fáticas, ser aumentadas até a metade, e suas habilitações para dirigir deverão ser suspensas.
- 57 Alfredo, conduzindo seu veículo automotor sem placas, atropelou um pedestre. Alessandro, dirigindo um veículo de categoria diversa das que sua carteira de habilitação permitia, causou lesão corporal culposa em um transeunte, ao atingi-lo. Nessas situações, as penas impostas a Alfredo e a Alessandro serão agravadas, devendo o juiz aplicar as penas-base com especial atenção à culpabilidade e às circunstâncias e conseqüências do crime.

Wellington, maior e capaz, sem habilitação ou permissão para dirigir veículo automotor, tomou emprestado de Sandro, também maior e capaz, seu veículo, para visitar a namorada em um bairro próximo àquele onde ambos residiam. Sandro, mesmo ciente da falta de habilitação de Wellington, emprestou o veículo.

Considerando a situação hipotética apresentada, julgue os itens que se seguem, à luz do Código de Trânsito Brasileiro.

- 58 Sandro responderá por crime de trânsito somente se a condução de Wellington causar perigo de dano.
- 59 Wellington responderá por crime de trânsito, independentemente de gerar perigo de dano ao conduzir o veículo.

Em cada um dos itens que se seguem, é apresentada uma situação hipotética relativa a infrações previstas no Código de Trânsito Brasileiro, seguida de uma assertiva a ser julgada.

- 60 Dirigindo seu veículo automotor, Caio foi abordado por policial rodoviário federal, que constatou que a validade de sua carteira nacional de habilitação estava vencida havia mais de trinta dias. Nessa situação, Caio será multado, sua carteira de habilitação será recolhida e seu veículo será removido.
- 61 Um policial rodoviário federal abordou o condutor de um veículo por dirigir sem usar o cinto de segurança. Nessa situação, depois de aplicar multa, o policial poderá reter o veículo somente até a colocação do cinto pelo motorista, se não constatar outra infração de trânsito.
- 62 O condutor de um veículo foi abordado por policial rodoviário federal depois de ultrapassar outro veículo pelo acostamento. Nessa situação, o policial poderá multar o condutor, mas não poderá reter nem remover o seu veículo.
- 63 O condutor estacionou o seu veículo sem observar a distância máxima permitida de afastamento da guia da calçada. Nessa situação, o condutor poderá ser multado e seu veículo, removido.
- 64 Márcio conduzia seu veículo automotor produzindo fumaça em níveis superiores aos legalmente permitidos. Nessa situação, conforme o nível de fumaça exalada, a conduta de Márcio pode configurar tanto infração administrativa como crime de trânsito.

Com base no disposto no Código de Trânsito Brasileiro, julgue os próximos itens.

- 65 Para que uma concessionária de serviço público de transporte de passageiros conheça a pontuação de infrações atribuída a um motorista de seu quadro funcional, que, no exercício da atividade remunerada ao volante, tenha tido seu direito de dirigir suspenso, ela deve ter autorização do respectivo empregado, uma vez que essa informação é personalíssima.
- 66 Se um policial rodoviário federal autuar, por infração de trânsito, um condutor de veículo em circulação no Brasil, mas licenciado no exterior, o infrator deverá pagar a multa no país de origem do licenciamento do automóvel, na forma estabelecida pelo CONTRAN.

Com relação à sinalização de trânsito, julgue os itens subsequentes.

- 67 Nas rodovias de pista dupla localizadas em vias rurais, a velocidade máxima permitida para automóveis, camionetas e motocicletas será a mesma.
- 68 A sinalização de trânsito segue uma ordem de prevalência: as ordens do agente de trânsito prevalecem sobre as normas de circulação e outros sinais; as indicações do semáforo sobre os demais sinais; e as indicações dos sinais sobre as demais normas de trânsito.

Com relação ao Sistema Nacional de Trânsito, julgue os seguintes itens.

- 69 A Polícia Rodoviária Federal integra o Sistema Nacional de Trânsito, competindo-lhe, no âmbito das rodovias e estradas federais, implementar as medidas da Política Nacional de Segurança e Educação de Trânsito.
- 70 O CONTRAN é o órgão máximo executivo de trânsito da União, cabendo a coordenação máxima do Sistema Nacional de Trânsito ao Departamento Nacional de Trânsito (DENATRAN).

Cada um dos itens a seguir apresenta uma situação hipotética relativa a operações de fiscalização em rodovias federais seguida de uma assertiva a ser julgada à luz do Código de Trânsito Brasileiro (CTB) e das resoluções do Conselho Nacional de Trânsito (CONTRAN).

- 71 Em uma operação de fiscalização, na abordagem de um veículo automotor, o policial rodoviário federal, ao notar que o condutor do veículo apresentava vermelhidão nos olhos, odor de álcool no hálito, desordem nas vestes e fala alterada, solicitou que o motorista se submetesse ao competente teste, mas o etilômetro apresentou súbita pane, tornando-se inservível para o teste. Nessa situação, diante da impossibilidade de confirmar alteração da capacidade psicomotora do condutor, o policial ficou impedido de lavrar o auto de infração pela conduta de direção sob a influência de álcool prevista no CTB.
- 72 No interior de um automóvel com capacidade para cinco pessoas, o condutor transportava quatro crianças: uma de oito anos de idade, no banco dianteiro; e outras três, todas de nove anos de idade, no banco traseiro. Cada criança utilizava o cinto de segurança individual. Apesar de ser mais nova que as demais, a criança transportada no banco dianteiro era a de maior estatura. Nessa situação, a disposição das crianças no veículo está em conformidade com a legislação de trânsito brasileira.
- 73 Constatado que no para-brisa de um veículo automotor havia sido aplicada película não refletiva, o policial rodoviário federal, utilizando-se de um medidor de transmitância luminosa legalmente aprovado, verificou o valor de 70% de transmitância luminosa do conjunto vidro-película na área central do para-brisa. Nessa situação, não há o que se falar em auto de infração, pois o valor verificado está dentro do padrão de regularidade previsto na legislação de trânsito brasileira.
- 74 Em uma rodovia federal, em um trecho em curva localizado fora do perímetro urbano, é alto o índice de acidentes de trânsito, apesar de haver medidor de velocidade do tipo fixo instalado no local. Nesse caso, no sentido de aumentar a fiscalização do excesso de velocidade nesse trecho, será correta a utilização de equipamento do tipo portátil à distância de um quilômetro do medidor de velocidade do tipo fixo já instalado.
- 75 Estudos técnicos adequados constataram a necessidade de instalar equipamentos de controle de velocidade do tipo fixo em trecho de rodovia federal onde é alto o índice de atropelamentos de pedestres. Nessa situação, respaldado nas evidências técnicas, a intervenção na via poderá ser realizada desde que mediante prévia autorização do Departamento Nacional de Infraestrutura de Transportes (DNIT).

De acordo com o que dispõem as resoluções do CONTRAN acerca do transporte de bicicletas em veículos automotores, julgue os itens que se seguem.

- 76 Não se permite o transporte de bicicleta em veículo com o compartimento de carga aberto, mesmo que o comprimento da bicicleta ultrapasse o comprimento da caçamba ou do referido compartimento.
- 77 Independentemente de instruções do fabricante, nos dispositivos instalados na parte traseira externa do veículo, a quantidade de bicicletas que podem ser transportadas depende do comprimento do balanço traseiro ocupado pelas bicicletas, que, de acordo com a legislação pertinente, não pode ultrapassar 60% da distância entre os eixos do veículo transportador.
- 78 O transporte de bicicletas em dispositivos fixados no teto de veículos estará em conformidade com a legislação de trânsito caso a altura do sistema veículo-dispositivo-bicicletas não ultrapasse 4,4 metros.

No dia 3/1/2019, às 21 horas, um policial rodoviário federal, em rodovia federal de pista simples, abordou um veículo do tipo cegonha — combinação de um caminhão-trator e um semirreboque —, com 22 metros de comprimento e distância entre eixos extremos de 18 metros, que transportava veículos nas plataformas inferior e superior. O disco-diagrama do registrador instantâneo e inalterável de velocidade e tempo do veículo mostrava superposição de registros, o que impossibilitava a leitura do tempo de movimentação do veículo e de suas interrupções. Na ficha de trabalho de autônomo do condutor constavam: data de saída = 3/1/2019 e hora de saída = 17 horas.

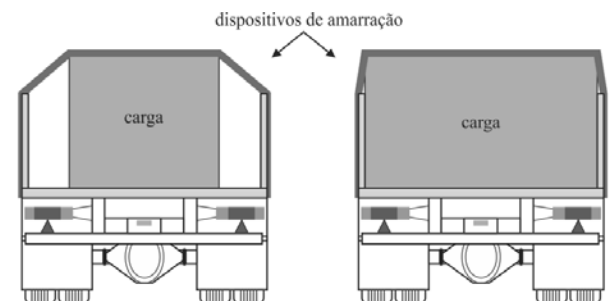
Além disso, a autorização especial de trânsito de posse do condutor não permitia o tráfego em local e horário distintos do que prevê a norma aplicável.

Considerando essa situação hipotética, julgue os próximos itens, à luz do CTB e das resoluções do CONTRAN.

- 79 O condutor em questão não ultrapassou o tempo máximo ininterrupto de direção previsto na legislação de trânsito para o tipo de veículo referido.
- 80 Nessa situação, apesar de o disco-diagrama não se prestar para exame, não cabe a aplicação de penalidade decorrente do defeito no aparelho registrador, já que foi possível a fiscalização do tempo de direção do motorista por meio da verificação da ficha de trabalho do autônomo.
- 81 Haja vista o horário e o local da vistoria, bem como as condições de transporte do veículo, o policial rodoviário federal deverá lavrar auto de infração pelo descumprimento da restrição de tráfego, cabendo a aplicação de penalidades previstas no CTB.

Com relação aos requisitos mínimos previstos nas resoluções do CONTRAN acerca de segurança para amarração de cargas transportadas em veículos de carga, julgue os itens subsequentes.

82 Nos veículos com carroceria aberta, os dispositivos de amarração devem ser tensionados pelo lado externo das guardas laterais, independentemente do espaço interno ocupado pela carga na carroceria, como mostram as figuras a seguir.



83 No caso de transporte de tubos apoiados sobre a carroceria e na posição horizontal, apesar de a carga ultrapassar a altura do painel frontal da carroceria, é permitida a circulação do veículo ante a impossibilidade de deslizamento longitudinal da carga, como ilustra a figura a seguir.



84 Tanto em veículos do tipo baú frigorífico (como o da figura 1A9-I a seguir) como em veículos do tipo baú lonado (como o da figura 1A9-II a seguir), é opcional a existência de pontos de amarração internos para a carga transportada.



Figura 1A9-I



Figura 1A9-II

À luz das disposições do CTB e das resoluções do CONTRAN acerca das regras de circulação de motocicletas, motonetas, ciclomotores, triciclos e quadriciclos motorizados, julgue os itens seguintes.

85 Entre as três situações ilustradas a seguir, apenas o dispositivo utilizado na figura 1A9-V é permitido para o transporte de galões de água mineral com capacidade de até 20 litros.



Figura 1A9-III



Figura 1A9-IV



Figura 1A9-V

86 É permitido que motociclista levante a viseira do capacete enquanto o veículo conduzido estiver parado, aguardando a travessia de pedestres diante de semáforo.

87 **Situação hipotética:** Em operação de fiscalização em uma rodovia federal, a equipe da PRF verificou que o condutor de um quadriciclo não fazia uso do capacete. O policial que abordou o condutor o liberou, considerando que o uso de capacete pelo condutor desse tipo de veículo se restringe à condução em vias urbanas pavimentadas. **Assertiva:** Nessa situação, foram adequadas as condutas do policial e do condutor.

No que se refere aos procedimentos para aplicação de penalidades previstos no CTB e nas resoluções do CONTRAN, julgue os itens subsequentes.

88 **Situação hipotética:** Ao abordar um veículo em rodovia federal, o policial rodoviário federal constatou que o condutor, que era o proprietário do veículo, dirigia sem utilizar o cinto de segurança. O policial lavrou o auto de infração, que continha a assinatura do condutor e especificava o prazo para apresentação da defesa da autuação. **Assertiva:** Nessa situação, fica a PRF dispensada de expedir a notificação da autuação ao proprietário do veículo.

89 As receitas oriundas das multas aplicadas pela PRF serão repassadas ao DNIT, órgão executivo rodoviário com circunscrição sobre as rodovias federais.

90 **Situação hipotética:** Policial rodoviário federal, ao flagrar o condutor de um veículo dirigindo alcoolizado, o que ficou comprovado pelo teste de etilômetro, lavrou o competente auto de infração de trânsito. **Assertiva:** Nessa situação, a própria PRF aplicará ao condutor infrator a penalidade de suspensão do direito de dirigir, assegurando-lhe a ampla defesa, o contraditório e o devido processo legal.

BLOCO III

Julgue o item a seguir, à luz da Lei n.º 8.112/1990.

- 91 A responsabilidade administrativa do servidor público independe da sua responsabilidade penal, salvo na hipótese de, na esfera criminal, ocorrer absolvição do réu fundamentada na negativa do fato criminoso ou da autoria do delito.

No tocante a atos administrativos, julgue o item a seguir.

- 92 Tanto a inexistência da matéria de fato quanto a sua inadequação jurídica podem configurar o vício de motivo de um ato administrativo.

No tocante aos poderes administrativos e à responsabilidade civil do Estado, julgue os próximos itens.

- 93 Constitui poder de polícia a atividade da administração pública ou de empresa privada ou concessionária com delegação para disciplinar ou limitar direito, interesse ou liberdade, de modo a regular a prática de ato em razão do interesse público relativo à segurança.
- 94 O abuso de poder, que inclui o excesso de poder e o desvio de finalidade, não decorre de conduta omissiva de agente público.
- 95 A responsabilidade civil do Estado por ato comissivo é subjetiva e baseada na teoria do risco administrativo, devendo o particular, que foi a vítima, comprovar a culpa ou o dolo do agente público.

À luz da Constituição Federal de 1988, julgue os itens que se seguem, a respeito de direitos e garantias fundamentais e da defesa do Estado e das instituições democráticas.

- 96 Em caso de iminente perigo público, autoridade pública competente poderá usar a propriedade particular, desde que assegure a consequente indenização, independentemente da comprovação da existência de dano, que, nesse caso, é presumido.
- 97 A competência da PRF, instituição permanente, organizada e mantida pela União, inclui o patrulhamento ostensivo das rodovias e das ferrovias federais.
- 98 Policial rodoviário federal com mais de dez anos de serviço pode candidatar-se ao cargo de deputado federal, devendo, no caso de ser eleito, passar para inatividade a partir do ato de sua diplomação.
- 99 São constitucionalmente assegurados ao preso o direito à identificação dos agentes estatais responsáveis pela sua prisão e o direito de permanecer em silêncio.
- 100 A segurança viária compreende a educação, a engenharia e a fiscalização de trânsito, vetores que asseguram ao cidadão o direito à mobilidade urbana eficiente.

Em uma rodovia federal, próxima à fronteira do Brasil com o Paraguai, um caminhão foi parado e vistoriado por policiais rodoviários federais. Além do motorista e de um passageiro, o veículo transportava, ilegalmente, grande quantidade de mercadoria lícita de procedência estrangeira, mas sem o pagamento dos devidos impostos de importação. O motorista, penalmente imputável e proprietário do caminhão, admitiu a propriedade dos produtos. O passageiro, que se identificou como servidor público alfandegário lotado no posto de fiscalização fronteira pelo qual o veículo havia passado para adentrar no território nacional, alegou desconhecer a existência dos produtos no caminhão e que apenas pegou carona com o motorista.

Tendo como referência essa situação hipotética, julgue os itens a seguir.

- 101 A conduta do motorista configura crime de descaminho em sua forma consumada, ainda que não tenha havido constituição definitiva do crédito tributário e a ocorrência de efetivo prejuízo ao erário.
- 102 Caso fique comprovada a participação do servidor público na conduta delituosa, ele responderá pelo delito de descaminho em sua forma qualificada: ela tinha o dever funcional de prevenir e de reprimir o crime.

Em decorrência de um homicídio doloso praticado com o uso de arma de fogo, policiais rodoviários federais foram comunicados de que o autor do delito se evadira por rodovia federal em um veículo cuja placa e características foram informadas. O veículo foi abordado por policiais rodoviários federais em um ponto de bloqueio montado cerca de 200 km do local do delito e que os policiais acreditavam estar na rota de fuga do homicida. Dada voz de prisão ao condutor do veículo, foi apreendida arma de fogo que estava em sua posse e que, supostamente, tinha sido utilizada no crime.

Considerando essa situação hipotética, julgue os seguintes itens.

- 103 De acordo com a classificação doutrinária dominante, a situação configura hipótese de flagrante presumido ou ficto.
- 104 Quanto ao sujeito ativo da prisão, o flagrante narrado é classificado como obrigatório, hipótese em que a ação de prender e as eventuais consequências físicas dela advindas em razão do uso da força se encontram abrigadas pela excludente de ilicitude denominada exercício regular de direito.
- 105 Durante o procedimento de lavratura do auto de prisão em flagrante pela autoridade policial competente, o policial rodoviário responsável pela prisão e condução do preso deverá ser ouvido logo após a oitiva das testemunhas e o interrogatório do preso.

O art. 1.º do Código Penal brasileiro dispõe que “não há crime sem lei anterior que o defina. Não há pena sem prévia cominação legal”.

Considerando esse dispositivo legal, bem como os princípios e as repercussões jurídicas dele decorrentes, julgue os itens que se seguem.

- 106 A norma penal deve ser instituída por lei em sentido estrito, razão por que é proibida, em caráter absoluto, a analogia no direito penal, seja para criar tipo penal incriminador, seja para fundamentar ou alterar a pena.
- 107 O presidente da República, em caso de extrema relevância e urgência, pode editar medida provisória para agravar a pena de determinado crime, desde que a aplicação da pena agravada ocorra somente após a aprovação da medida pelo Congresso Nacional.

Abordado determinado veículo em região de fronteira internacional, os policiais rodoviários federais suspeitaram da conduta do motorista: ele conduzia duas adolescentes com as quais não tinha nenhum grau de parentesco. Ao ser questionado, o condutor do veículo confessou que fora pago para conduzi-las a um país vizinho, onde seriam exploradas sexualmente. As adolescentes informaram que estavam sendo transportadas sob grave ameaça e que não haviam consentido com a realização da viagem e muito menos com seus propósitos finais.

Considerando a situação hipotética apresentada, julgue o item a seguir.

108 A conduta do motorista do veículo se amolda ao tipo penal do tráfico de pessoas, em sua forma consumada, incidindo, nesse caso, causa de aumento de pena, em razão de as vítimas serem adolescentes.

Com relação aos meios de prova e os procedimentos inerentes a sua colheita, no âmbito da investigação criminal, julgue os próximos itens.

109 A boleia de um caminhão, utilizada pelo motorista, ainda que provisoriamente, como dormitório e local de guarda de seus objetos pessoais em longas viagens, não poderá ser objeto de busca e apreensão sem a competente ordem judicial na hipótese de fiscalização policial com a finalidade de revista específica àquele veículo.

110 A entrada forçada em determinado domicílio é lícita, mesmo sem mandado judicial e ainda que durante a noite, caso esteja ocorrendo, dentro da casa, situação de flagrante delito nas modalidades próprio, impróprio ou ficto.

Em cada um dos itens a seguir é apresentada uma situação hipotética seguida de uma assertiva a ser julgada considerando-se o Estatuto do Desarmamento, o Estatuto da Criança e do Adolescente e o Sistema Nacional de Políticas Públicas sobre Drogas.

111 Em uma operação da PRF, foram encontradas, no veículo de Sandro, munições de arma de fogo de uso permitido e, no veículo de Eurípedes, munições de uso restrito. Nenhum deles tinha autorização para o transporte desses artefatos. Nessa situação, considerando-se o previsto no Estatuto de Desarmamento, Sandro responderá por infração administrativa e Eurípedes responderá por crime.

112 João foi flagrado, em operação da PRF, submetendo uma adolescente a exploração sexual em rodovia federal. Nessa situação, João poderá não responder pelo crime se comprovar o consentimento da menor.

113 Um policial rodoviário federal encontrou dois jovens, maiores e capazes, consumindo drogas no acostamento de determinada rodovia federal. Um dos jovens confessou que havia oferecido ao outro pequena quantidade da substância para que ele a experimentasse pela primeira vez. Nessa situação, o jovem que ofertou a droga responderá por crime e estará sujeito à pena de detenção; o que consumiu pela primeira vez estará sujeito a pena diversa da de detenção.

No que se refere à Lei dos Crimes contra o Meio Ambiente e à legislação nacional acerca do tráfico de pessoas, julgue os próximos itens.

114 A Política Nacional de Enfrentamento ao Tráfico de Pessoas é coordenada por vários órgãos da Presidência da República.

115 **Situação hipotética:** João foi autuado por policial rodoviário federal, por supostamente ter praticado conduta prevista como crime contra a fauna. **Assertiva:** Nessa situação, João necessariamente responderá pela conduta praticada.

Acerca de aspectos da teoria geral dos direitos humanos, da sua afirmação histórica e da sua relação com a responsabilidade do Estado, julgue os próximos itens.

116 As pessoas naturais que violam direitos humanos continuam a gozar da proteção prevista nas normas que dispõem sobre direitos humanos.

117 Apenas por atos de seus agentes o Estado pode ser responsabilizado por violação de direitos humanos reconhecidos na Convenção Americana de Direitos Humanos.

118 Todos os direitos humanos foram afirmados em um único momento histórico.

A respeito do tratamento constitucional dos tratados internacionais de direitos humanos, julgue os itens que se seguem.

119 Conforme a maneira como são internalizados, os tratados internacionais sobre direitos humanos podem receber *status* normativo-hierárquico constitucional ou legal.

120 A hierarquia constitucional dos tratados internacionais de direitos humanos depende de sua aprovação por três quintos dos membros de cada casa do Congresso Nacional.

Espaço livre

PROVA DISCURSIVA

- Nesta prova, faça o que se pede, usando, caso deseje, o espaço para rascunho indicado no presente caderno. Em seguida, transcreva o texto para a **FOLHA DE TEXTO DEFINITIVO DA PROVA DISCURSIVA**, no local apropriado, pois **não será avaliado fragmento de texto escrito em local indevido**.
- Qualquer fragmento de texto além da extensão máxima de linhas disponibilizadas será desconsiderado.
- Na **Folha de Texto Definitivo**, a presença de qualquer marca identificadora no espaço destinado à transcrição do texto definitivo acarretará a anulação da sua prova discursiva.
- Ao domínio do conteúdo serão atribuídos até **20,00 pontos**, dos quais até **1,00 ponto** será atribuído ao quesito apresentação (legibilidade, respeito às margens e indicação de parágrafos) e estrutura textual (organização das ideias em texto estruturado).

A Lei n.º 11.705/2008, conhecida como Lei Seca, por reduzir a tolerância com motoristas que dirigem embriagados, colocou o Brasil entre os países com legislação mais severa sobre o tema. No entanto, a atitude dos motoristas pouco mudou nesses dez anos. Um levantamento, por meio da Lei de Acesso à Informação, indicou mais de 1,7 milhão de autuações, com crescimento contínuo desde 2008. O avanço das infrações nos últimos cinco anos ficou acima do aumento da frota de veículos e de pessoas habilitadas: o número de motoristas flagrados bêbados continua crescendo, em vez de diminuir com o endurecimento das punições ao longo desses anos.

Internet: <g1.globo.com> (com adaptações).

Nas estradas federais que cortam o estado de Pernambuco, durante o feriadão de Natal, a PRF registrou cento e três acidentes de trânsito, com cinquenta e dois feridos e sete mortos. Segundo a corporação, seis motoristas foram presos por dirigir bêbados e houve oitenta e sete autuações pela Lei Seca. Os números são parte da Operação Integrada Rodovia, deflagrada pela PRF. Em 2017, foram registrados noventa acidentes. No ano passado, a ação da polícia teve um dia a menos.

Internet: <g1.globo.com> (com adaptações).

Considerando que os fragmentos de texto acima têm caráter unicamente motivador, redija um texto dissertativo acerca do seguinte tema.

O COMBATE ÀS INFRAÇÕES DE TRÂNSITO NAS RODOVIAS FEDERAIS BRASILEIRAS

Ao elaborar seu texto, aborde os seguintes aspectos:

- 1 medidas adotadas pela PRF no combate às infrações; [valor: 7,00 pontos]
- 2 ações da sociedade que auxiliem no combate às infrações; [valor: 6,00 pontos]
- 3 atitudes individuais para a diminuição das infrações. [valor: 6,00 pontos]

RASCUNHO

1	
2	
3	
4	
5	
6	
7	
8	
9	
10	
11	
12	
13	
14	
15	
16	
17	
18	
19	
20	
21	
22	
23	
24	
25	
26	
27	
28	
29	
30	